

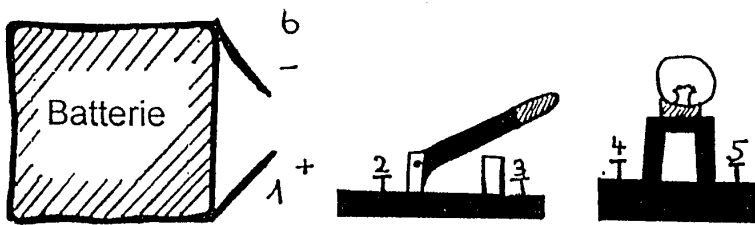



Berufstest Lösung Maximale Punktezahl 22

1. Es gibt rund 450 Ausbildungsberufe. Wieviele dieser Berufe werden von 80 % aller Mädchen gewählt ?			
<input checked="" type="checkbox"/> 15 Berufe	<input type="checkbox"/> 32 Berufe	<input type="checkbox"/> 240 Berufe	
2. Wieviele Bundesländer hat die Bundesrepublik Deutschland ?			
<input type="checkbox"/> 9	<input checked="" type="checkbox"/> 16	<input type="checkbox"/> 27	
3. Welche Frau bekam den Nobelpreis für die Entdeckung der radioaktiven Strahlung ?			
<input checked="" type="checkbox"/> Marie Curie	<input type="checkbox"/> Alice Schwarzer	<input type="checkbox"/> Florence Nightingale	
4. Was ist „ORTHOGRAPHIE“?			
<input type="checkbox"/> Vogelkunde	<input type="checkbox"/> Erdkunde	<input checked="" type="checkbox"/> Rechtschreibung	<input type="checkbox"/> Stadtplan
5. 1983 wurde das Gesetz abgeändert, dass es für Frauen und Mädchen z.B. in Handwerksberufen keine separaten Toiletten mehr geben muß. Stimmt das ?	<input checked="" type="checkbox"/> ja	<input type="checkbox"/> nein	
6. Benötigt ein Computer ein Betriebssystem um zu funktionieren ?	<input checked="" type="checkbox"/> ja	<input type="checkbox"/> nein	
7. In Firmen wird neben dem fachlichen Können immer mehr auf persönliche Eigenschaften Wert gelegt. Welche der folgenden Eigenschaften werden erwartet ?	<input checked="" type="checkbox"/> Pünktlichkeit	<input checked="" type="checkbox"/> Zuverlässigkeit	<input checked="" type="checkbox"/> Genauigkeit
8. Wieviel Euro sind 25 % von 4800,00 €	<input checked="" type="checkbox"/> 1.200,00 €	<input type="checkbox"/> 1.750,00 €	<input type="checkbox"/> 1.800,00 €
9. Wieviel Volt hat eine Autobatterie ?	<input type="checkbox"/> 6 Volt	<input checked="" type="checkbox"/> 12 Volt	<input type="checkbox"/> 24 Volt
10. Woraus besteht Pergament ?	<input type="checkbox"/> hauchdünne Holzscheiben	<input type="checkbox"/> Zellfaser der Pelargonie	<input checked="" type="checkbox"/> gegerbte Tierhaut
11. Die Bewerbungsmappe (A4 Format) mit 124 g benötigt eine Briefmarke. Welchen Wert muß diese Briefmarke haben ?	<input type="checkbox"/> 1,12 €	<input checked="" type="checkbox"/> 1,45 € gilt nur	<input type="checkbox"/> 2,25 €
12. Wie heißt diese Schraubenmutter ?			
	<input type="checkbox"/> Hutmutter	<input type="checkbox"/> Rändelmutter	
	<input checked="" type="checkbox"/> Sechskantmutter	<input type="checkbox"/> Flügelmutter	
13. Wie heißt diese Zange ?			
	<input checked="" type="checkbox"/> Kombizange	<input type="checkbox"/> Kneifzange	
	<input type="checkbox"/> Seitenschneider	<input type="checkbox"/> Flachzange	
14. In welcher Reihenfolge müssen die Anschlüsse verbunden werden damit die Lampe ein und aus geschaltet werden kann ?			
	<input checked="" type="checkbox"/> 1, 2, 3, 4, 5, 6		
	<input type="checkbox"/> 1, 5, 4, 6, 2, 3		
	<input type="checkbox"/> 6, 1, 5, 6, 3, 4		
15. Welche Räder drehen sich in dieselbe Richtung wie das schwarze Zahnrad ?			
	<input type="checkbox"/> alle	<input type="checkbox"/> 2,4,6	<input checked="" type="checkbox"/> 3,5,7
16. Wieviel Speicherkapazität hat eine 3,5 Zoll Diskette ?	<input type="checkbox"/> 8 Megabyte	<input checked="" type="checkbox"/> 1,44 Megabyte	<input type="checkbox"/> 50 Kilobyte
17. Köchinnen verrichten alle Arbeiten, die zur Herstellung von Speisen gehören. Wie oft setzen sie dabei täglich eine Kümmelspaltmaschine ein ?	<input type="checkbox"/> 1 x	<input type="checkbox"/> 5 – 10 x	<input checked="" type="checkbox"/> nie
18. Was ist der HAMMELSPRUNG ?	<input checked="" type="checkbox"/> ein parlamentarisches Abstimmungsverfahren	<input type="checkbox"/> eine Turnübung	<input type="checkbox"/> eine Fortpflanzungsmethode
19. Wie viele Stecknadeln muß eine Einzelhandelskauffrau lösen, um ein Hemd auszupacken ?	<input type="checkbox"/> 2 – 5	<input checked="" type="checkbox"/> 6 – 10	<input type="checkbox"/> 11 – 15
20. Eine Maler- und Lackiererin soll eine Hauswand anstreichen, die 15 m lang und 9 m hoch ist. Für wieviel m² muß sie Farbe haben ?	<input checked="" type="checkbox"/> 135 m²	<input type="checkbox"/> 126 m²	<input type="checkbox"/> 95 m²

