

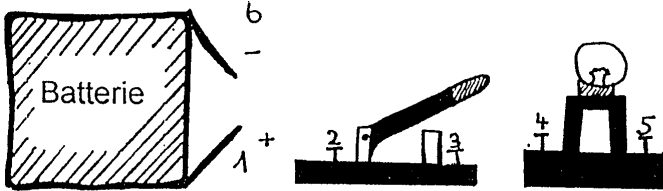



Berufstest

mehrfache Lösungen sind möglich

1. Es gibt rund 342 Ausbildungsberufe. Wieviele dieser Berufe werden von 80 % aller Mädchen gewählt? <input type="checkbox"/> 15 Berufe <input type="checkbox"/> 32 Berufe <input type="checkbox"/> 240 Berufe
2. Wieviele Bundesländer hat die Bundesrepublik Deutschland? <input type="checkbox"/> 9 <input type="checkbox"/> 16 <input type="checkbox"/> 27
3. Welche Frau bekam den Nobelpreis für die Entdeckung der radioaktiven Strahlung? <input type="checkbox"/> Marie Curie <input type="checkbox"/> Alice Schwarzer <input type="checkbox"/> Florence Nightingale
4. Was ist „ORTHOGRAPHIE“? <input type="checkbox"/> Vogelkunde <input type="checkbox"/> Erdkunde <input type="checkbox"/> Rechtschreibung <input type="checkbox"/> Stadtplan
5. 1983 wurde das Gesetz abgeändert, dass es für Frauen und Mädchen z.B. in Handwerksberufen keine separaten Toiletten mehr geben muß. Stimmt das? <input type="checkbox"/> ja <input type="checkbox"/> nein
6. Benötigt ein Computer ein Betriebssystem um zu funktionieren? <input type="checkbox"/> ja <input type="checkbox"/> nein
7. In Firmen wird neben dem fachlichen Können immer mehr auf persönliche Eigenschaften Wert gelegt. Welche der folgenden Eigenschaften werden erwartet? <input type="checkbox"/> Pünktlichkeit <input type="checkbox"/> Zuverlässigkeit <input type="checkbox"/> Genauigkeit
8. Wieviel Euro sind 25 % von 4800,00 € <input type="checkbox"/> 1.200,00 € <input type="checkbox"/> 1.750,00 € <input type="checkbox"/> 1.800,00 €
9. Wieviel Volt hat eine Autobatterie? <input type="checkbox"/> 6 Volt <input type="checkbox"/> 12 Volt <input type="checkbox"/> 24 Volt
10. Woraus besteht Pergament? <input type="checkbox"/> hauchdünne Holzscheiben <input type="checkbox"/> Zellfaser der Pelargonie <input type="checkbox"/> gegerbte Tierhaut
11. Die Bewerbungsmappe (A4 Format) mit 124 g benötigt eine Briefmarke. Welchen Wert muß diese Briefmarke haben? <input type="checkbox"/> 1,12 € <input type="checkbox"/> 1,45 € <input type="checkbox"/> 2,25 €
12. Wie heißt diese Schraubenmutter?  <input type="checkbox"/> Hutmutter <input type="checkbox"/> Rändelmutter <input type="checkbox"/> Sechskantmutter <input type="checkbox"/> Flügelmutter
13. Wie heißt diese Zange?  <input type="checkbox"/> Kombizange <input type="checkbox"/> Kneifzange <input type="checkbox"/> Seitenschneider <input type="checkbox"/> Flachzange
14. In welcher Reihenfolge müssen die Anschlüsse verbunden werden damit die Lampe ein und aus geschaltet werden kann?  <input type="checkbox"/> 1, 2, 3, 4, 5, 6 <input type="checkbox"/> 1, 5, 4, 6, 2, 3 <input type="checkbox"/> 6, 1, 5, 6, 3, 4
15. Welche Räder drehen sich in dieselbe Richtung wie das schwarze Zahnrad?  <input type="checkbox"/> alle <input type="checkbox"/> 2,4,6 <input type="checkbox"/> 3,5,7
16. Wieviel Speicherkapazität hat eine 3,5 Zoll Diskette ? <input type="checkbox"/> 8 Megabyte <input type="checkbox"/> 1,44 Megabyte <input type="checkbox"/> 50 Kilobyte
17. Köchinnen verrichten alle Arbeiten, die zur Herstellung von Speisen gehören. Wie oft setzen sie dabei täglich eine Kümmelspaltmaschine ein? <input type="checkbox"/> 1 x <input type="checkbox"/> 5 – 10 x <input type="checkbox"/> nie
18. Was ist der HAMMELSPRUNG? <input type="checkbox"/> ein parlamentarisches Abstimmungsverfahren <input type="checkbox"/> eine Turnübung <input type="checkbox"/> eine Fortpflanzungsmethode
19. Wie viele Stecknadeln muß eine Einzelhandelskauffrau lösen, um ein Hemd auszupacken? <input type="checkbox"/> 2 – 5 <input type="checkbox"/> 6 – 10 <input type="checkbox"/> 11 – 15
20. Eine Maler- und Lackiererin soll eine Hauswand anstreichen, die 15 m lang und 9 m hoch ist. Für wieviel m ² muß sie Farbe haben? <input type="checkbox"/> 135 m ² <input type="checkbox"/> 126 m ² <input type="checkbox"/> 95 m ²